


Все прототипы задания №13 (базовый уровень)

**1. Задача №1680:**

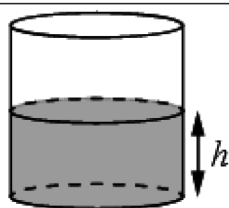
Даны две кружки цилиндрической формы. Первая кружка в полтора раза ниже второй, а вторая вдвое шире первой. Во сколько раз объём второй кружки больше объёма первой?



**Ответ: 6**

**2. Задача №1692:**

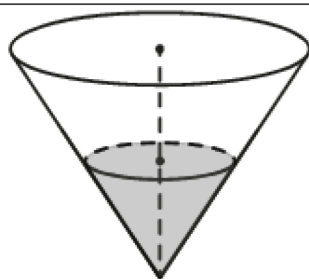
Вода в сосуде цилиндрической формы находится на уровне  $h=80$  см. На каком уровне окажется вода, если её перелить в другой цилиндрический сосуд, у которого радиус основания вдвое больше, чем у первого? Ответ дайте в сантиметрах.



**Ответ: 20**

**3. Задача №1705:**

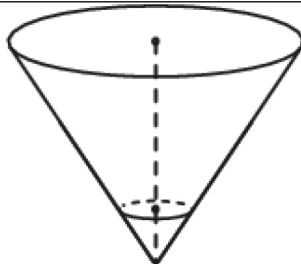
В сосуде, имеющем форму конуса, уровень жидкости достигает  $\frac{1}{2}$  высоты. Объём жидкости равен 30 мл. Сколько миллилитров жидкости нужно долить, чтобы наполнить сосуд доверху?



**Ответ: 240**

**4. Задача №1745:**

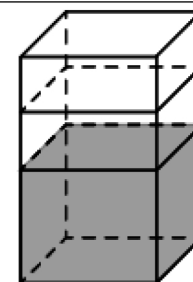
В сосуде, имеющем форму конуса, уровень жидкости достигает  $\frac{1}{3}$  высоты. Объём сосуда 810 мл. Чему равен объём налитой жидкости? Ответ дайте в миллилитрах.



**Ответ: 30**

**5. Задача №1785:**

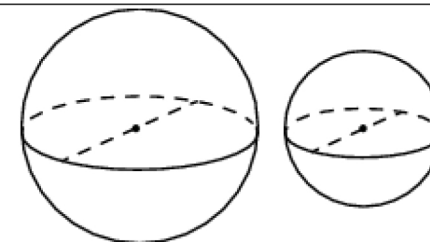
В бак, имеющий форму прямой призмы, налито 5 л воды. После полного погружения в воду детали уровень воды в баке поднялся в 1,4 раза. Найдите объём детали. Ответ дайте в кубических сантиметрах, зная, что в одном литре 1000 кубических сантиметров.



**Ответ: 2000**

**6. Задача №1805:**

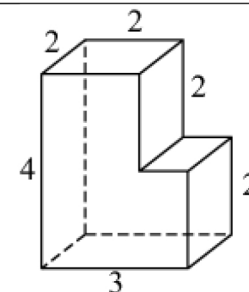
Однородный шар диаметром 3 см имеет массу 108 граммов. Чему равна масса шара, изготовленного из того же материала, с диаметром 2 см? Ответ дайте в граммах.



**Ответ: 32**

**7. Задача №5462:**

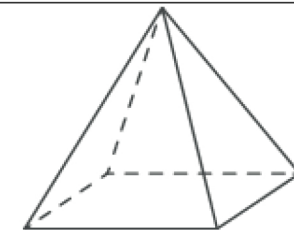
Деталь имеет форму изображённого на рисунке многогранника (все двугранные углы прямые). Числа на рисунке обозначают длины рёбер в сантиметрах. Найдите объём этой детали. Ответ дайте в кубических сантиметрах.



**Ответ: 20**

**8. Задача №5510:**

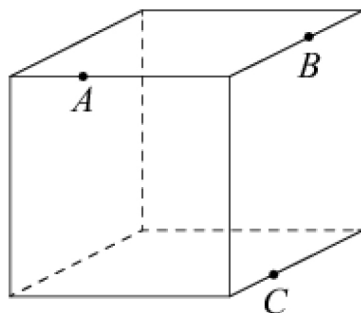
Пирамида Снофру имеет форму правильной четырёхугольной пирамиды, сторона основания которой равна 220 м, а высота — 104 м. Сторона основания точной музейной копии этой пирамиды равна 11 см. Найдите высоту музейной копии. Ответ дайте в сантиметрах.



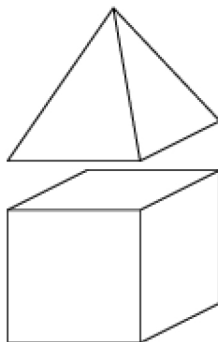
**Ответ: 5,2**

**9. Задача №5544:**

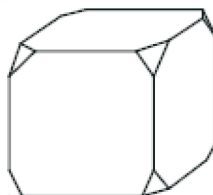
Плоскость, проходящая через точки  $A$ ,  $B$  и  $C$ , разбивает куб на два многогранника. Сколько вершин у получившегося многогранника с бóльшим числом граней?

**Ответ: 10****10. Задача №5553:**

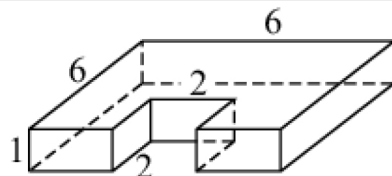
К кубу с ребром 1 приклеили правильную четырёхугольную пирамиду с ребром 1 так, что квадратные грани совпали. Сколько граней у получившегося многогранника (невидимые рёбра на рисунке не изображены)?

**Ответ: 9****11. Задача №5559:**

От деревянного кубика отпилили все его вершины (см. рис.). Сколько граней у получившегося многогранника (невидимые рёбра на рисунке не изображены)?

**Ответ: 14****12. Задача №5568:**

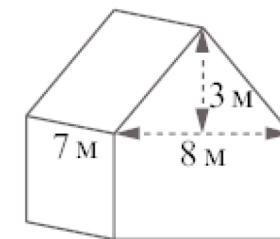
Деталь имеет форму изображённого на рисунке многогранника (все двугранные углы прямые). Числа на рисунке обозначают длины рёбер в сантиметрах. Найдите площадь поверхности этой детали. Ответ дайте в квадратных сантиметрах.

**Ответ: 92****13. Задача №5578:**

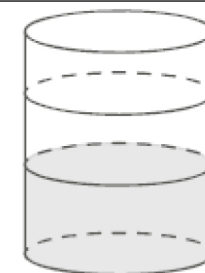
Ящик, имеющий форму куба с ребром 20 см без одной грани, нужно покрасить со всех сторон снаружи. Найдите площадь поверхности, которую необходимо покрасить. Ответ дайте в квадратных сантиметрах.

**Ответ: 2000****14. Задача №5582:**

Двускатную крышу дома, имеющего в основании прямоугольник (см. рис.), необходимо полностью покрыть рубероидом. Высота крыши равна 3 м, длины стен дома равны 7 м и 8 м. Найдите, сколько рубероида (в квадратных метрах) нужно для покрытия этой крыши, если скаты крыши равны.

**Ответ: 70****15. Задача №5586:**

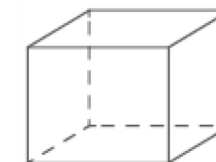
В бак цилиндрической формы, площадь основания которого 80 квадратных сантиметров, налита жидкость. Чтобы измерить объём детали сложной формы, её полностью погружают в эту жидкость. Найдите объём детали, если после её погружения уровень жидкости в баке поднялся на 10 см. Ответ дайте в кубических сантиметрах.

**Ответ: 800****16. Задача №5591:**

Высота бака цилиндрической формы равна 40 см, а площадь его основания 150 квадратных сантиметров. Чему равен объём этого бака (в литрах)? в одном литре 1000 кубических сантиметров.

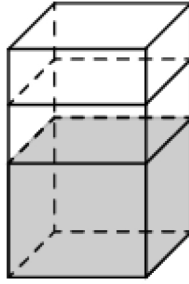
**Ответ: 6****17. Задача №5599:**

Аквариум имеет форму прямоугольного параллелепипеда с размерами 60 см×30 см×40 см. Сколько литров составляет объём аквариума? В одном литре 1000 кубических сантиметров.

**Ответ: 72**

**18. Задача №5701:**


В бак, имеющий форму правильной четырёхугольной призмы со стороной основания, равной 20 см, налита жидкость. Чтобы измерить объём детали сложной формы, её полностью погружают в эту жидкость. Найдите объём детали, если после её погружения уровень жидкости в баке поднялся на 10 см. Ответ дайте в кубических сантиметрах.

**Ответ: 4000****19. Задача №9580:**

Прямолинейный участок трубы длиной 3 м, имеющей в сечении окружность, необходимо покрасить снаружи (торцы трубы открыты, их красить не нужно). Найдите площадь поверхности, которую необходимо покрасить, если обхват внешней трубы равен 32 см. Ответ дайте в квадратных сантиметрах.

**Ответ: 96****20. Задача №9590:**

Ступени лестницы покрасили в тёмный цвет, как показано на рисунке (штриховкой). Найдите площадь окрашенной поверхности, если глубина каждой ступеньки равна 30 см, высота — 15 см, а ширина — 90 см. Ответ дайте в квадратных сантиметрах.

**Ответ: 17550**