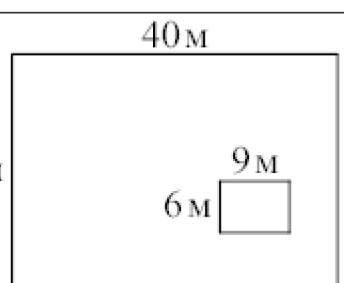

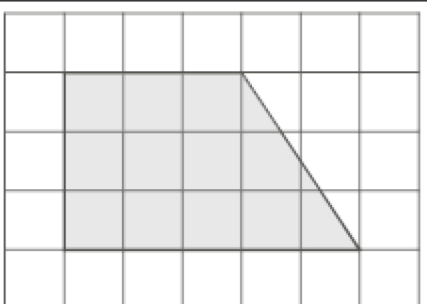
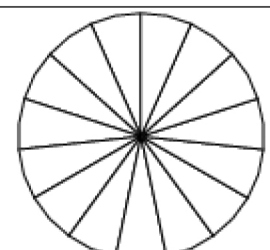

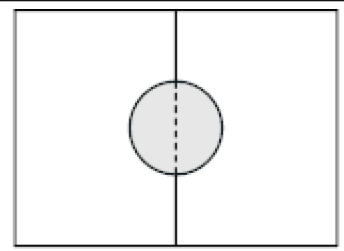
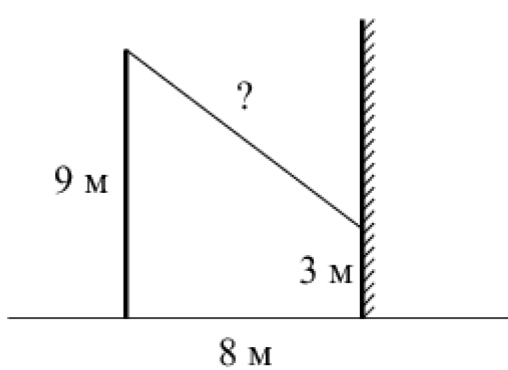
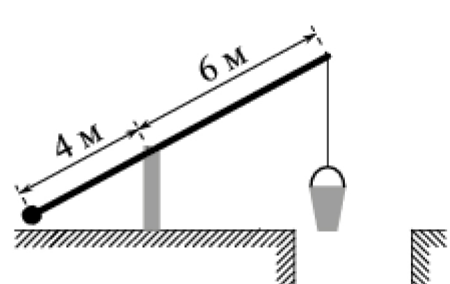
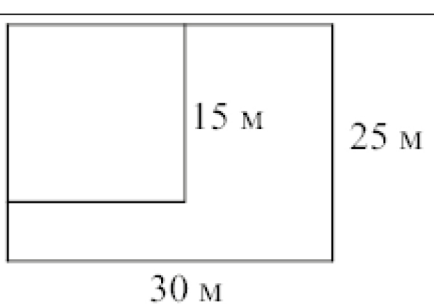
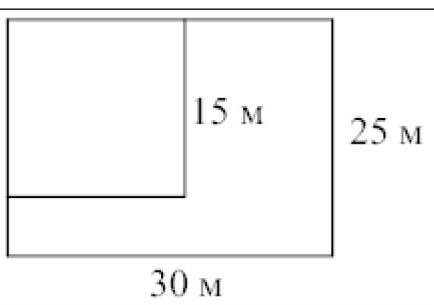


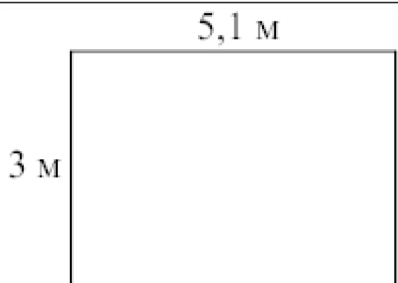
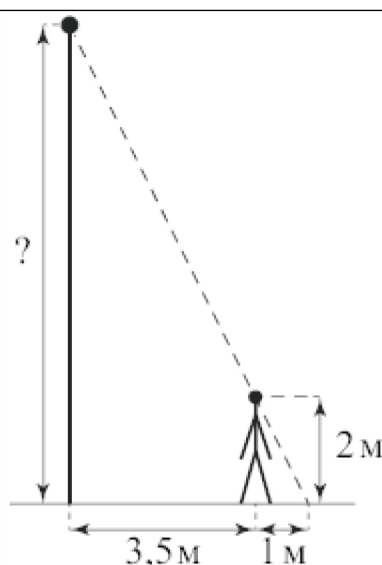


1. Задача №1569:	Ответы
<p>Диагональ прямоугольного телевизионного экрана равна 100 см, а ширина экрана — 80 см. Найдите высоту экрана. Ответ дайте в сантиметрах.</p>	<p>60</p>
<p>2. Задача №1589:</p> <p>Детская горка укреплена вертикальным столбом, расположенным посередине спуска. Найдите высоту l этого столба, если высота h горки равна 3 метрам. Ответ дайте в метрах.</p>	<p>1,5</p>
<p>3. Задача №1609:</p> <p>Перила лестницы дачного дома для надёжности укреплены посередине вертикальным столбом. Найдите высоту l этого столба, если наименьшая высота h_1 перил относительно земли равна 1 м, а наибольшая высота h_2 равна 2 м. Ответ дайте в метрах.</p>	<p>1,5</p>
<p>4. Задача №1641:</p> <p>Пожарную лестницу длиной 13 м приставили к окну дома. Нижний конец лестницы отстоит от стены на 5 м. На какой высоте расположено окно? Ответ дайте в метрах.</p>	<p>12</p>
<p>5. Задача №1644:</p> <p>На рисунке показано, как выглядит колесо с 7 спицами. Сколько будет спиц в колесе, если угол между соседними спицами в нём будет равен 20°?</p>	<p>18</p>
<p>6. Задача №3766:</p> <p>Дачный участок имеет форму прямоугольника со сторонами 25 метров и 30 метров. Хозяин планирует обнести его забором и разделить таким же забором на две части, одна из которых имеет форму квадрата. Найдите общую длину забора в метрах.</p>	<p>135</p>

<p>7. Задача №3801: Дачный участок имеет форму прямоугольника, стороны которого равны 40 м и 30 м. Дом, расположенный на участке, также имеет форму прямоугольника, стороны которого равны 9 м и 6 м. Найдите площадь оставшейся части участка. Ответ дайте в квадратных метрах.</p>		1146
<p>8. Задача №3811: Участок земли под строительство санатория имеет форму прямоугольника, стороны которого равны 900 м и 400 м. Одна из больших сторон участка идёт вдоль моря, а три остальные стороны нужно огородить забором. Найдите длину этого забора. Ответ дайте в метрах.</p>		1700
<p>9. Задача №3821: План местности разбит на клетки. Каждая клетка обозначает квадрат 1 м × 1 м. Найдите площадь участка, выделенного на плане. Ответ дайте в квадратных метрах.</p>		12
<p>10. Задача №3832: Колесо имеет 15 спиц. Углы между соседними спицами равны. Найдите величину угла (в градусах), который образуют две соседние спицы.</p>		24
<p>11. Задача №5616: Какой угол (в градусах) образуют минутная и часовая стрелки часов в 7:00?</p>		150
<p>12. Задача №8601: Два садовода, имеющие прямоугольные участки размерами 20 м на 30 м с общей границей, договорились и сделали общий круглый пруд площадью 140 квадратных метров (см. чертёж), причём граница участков проходит точно через центр пруда. Какова площадь (в квадратных метрах) оставшейся части участка каждого садовода?</p>		530
<p>13. Задача №8766: Масштаб карты такой, что в одном сантиметре 2,5 км. Чему равно расстояние между городами А и В (в км), если на карте оно составляет 12 см?</p>		30

<p>14. Задача №8771: Пол комнаты, имеющей форму прямоугольника со сторонами 4 м и 9 м, требуется покрыть паркетом из прямоугольных дощечек со сторонами 10 см и 25 см. Сколько потребуется таких дощечек?</p>	1440
<p>15. Задача №8811: От столба высотой 9 м к дому натянут провод, который крепится на высоте 3 м от земли (см. рис.). Расстояние от дома до столба 8 м. Найдите длину провода. Ответ дайте в метрах.</p> 	10
<p>16. Задача №8819: На рисунке изображён колодец с «журавлём». Короткое плечо имеет длину 4 м, а длинное плечо — 6 м. На сколько метров опустится конец длинного плеча, когда конец короткого поднимется на 1 м?</p> 	1,5
<p>17. Задача №8835: Дачный участок имеет форму прямоугольника со сторонами 25 метров и 30 метров. Хозяин планирует обнести его изгородью и отгородить такой же изгородью квадратный участок со стороной 15 м (см. рис.). Найдите суммарную длину изгороди в метрах.</p> 	140
<p>18. Задача №8839: Дачный участок имеет форму прямоугольника со сторонами 25 метров и 30 метров. Хозяин отгородил на участке квадратный вольер со стороной 15 м (см. рис.). Найдите площадь оставшейся части участка. Ответ дайте в квадратных метрах.</p> 	525

<p>19. Задача №8843: Квартира состоит из комнаты, кухни, коридора и санузла (см. чертёж). Кухня имеет размеры 3 м × 3,5 м, санузел — 2 м × 2 м, длина комнаты 4,5 м. Найдите площадь коридора (в квадратных метрах).</p>		11
<p>20. Задача №8863: Участок земли имеет прямоугольную форму. Стороны прямоугольника равны 25 м и 70 м. Найдите длину забора (в метрах), которым нужно огородить участок, предусмотрев проезд шириной 4 м.</p>		186
<p>21. Задача №8883: На плане указано, что прямоугольная комната имеет площадь 15,2 кв. м. Точные измерения показали, что ширина комнаты равна 3 м, а длина 5,1 м. На сколько квадратных метров площадь комнаты отличается от значения, указанного на плане?</p>		0,1
<p>22. Задача №8903: Человек, рост которого равен 2 м, стоит на расстоянии 3,5 м от уличного фонаря. При этом длина тени человека равна 1 м. Определите высоту фонаря (в метрах).</p>		9